

**EPREUVE COMMUNE D'HISTOIRE-GEOGRAPHIE 4<sup>EME</sup>** du mercredi 22 mai 2013

NOM : .....

Prénom : .....

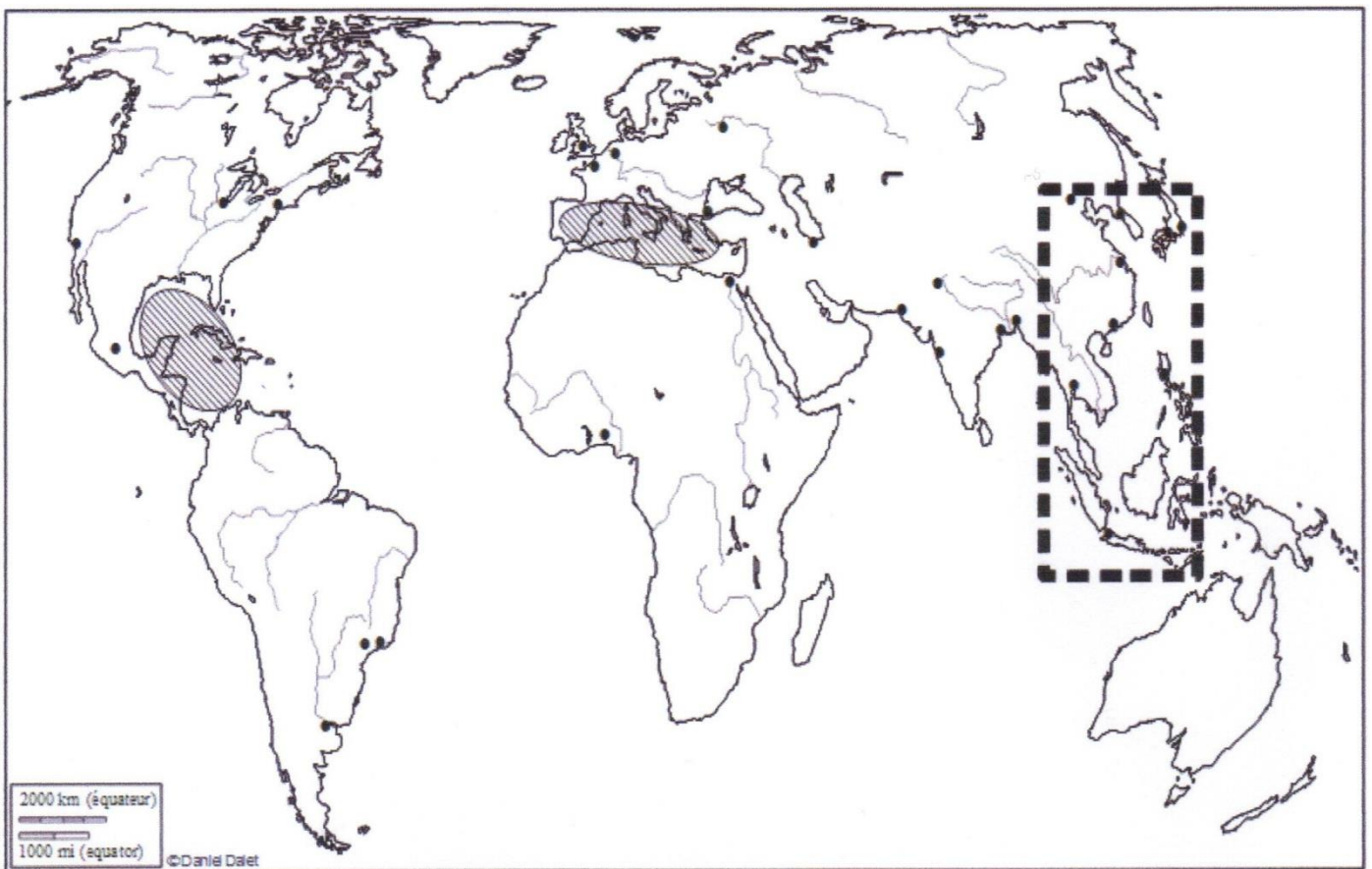
Classe : .....

N° d'anonymat : .....



N° d'anonymat : .....	Maitrise de la langue : .../2
<b>Note : ..... /20</b>	<b>COMMENTAIRES :</b>

**PREMIERE PARTIE : GÉOGRAPHIE (10,5 points)**

**I REPÈRES DE GEOGRAPHIE (2,5 points)**



1. D'après le croquis, complétez la légende ci-dessous : (1 pt)

	.....
	.....

2. Localisez et nommez sur ce croquis: (1,5 pt)

- La Cordillère des Andes et le Nil
- un espace faiblement peuplé ou inhabité de la planète

**NE PAS ECRIRE DANS CETTE PARTIE**

**II. TRAVAIL SUR DOCUMENT : La Roumanie, une terre d'immigration très récente. (8 points)**

*Depuis son entrée dans l'Union européenne en 2007, la Roumanie est devenue une destination attractive pour des milliers d'Africains et d'Asiatiques.*

« Kasim a parcouru des milliers de kilomètres en confiant sa vie aux mains des passeurs qui l'ont transporté de la Somalie en Ukraine, puis en Roumanie [dont les frontières sont moins surveillées que celles d'autres pays d'Europe].

Il rêvait de l'Europe de l'Ouest comme d'un paradis justifiant que l'on prenne tous les risques. La crise économique, le chômage, la difficulté de se faire une place en Occident ? "Allez quelques jours en Somalie et vous verrez que tout ça c'est de la bagatelle, explique-t-il. En Europe, on a au moins la chance de survivre et ça nous suffit."

Choc des civilisations. Des paysans de la Roumanie profonde qui n'ont jamais vu de Noirs de leur vie se retrouvent face à ces nouveaux immigrants qui les saluent en allemand. Africains, Indiens, Afghans, Irakiens : l'État roumain leur assure l'hébergement, les repas, quelques vêtements, mais l'argent de poche se limite à 80 centimes d'euro par jour. Pour joindre les deux bouts, ils font des petits travaux pour les paysans du coin. Depuis l'adhésion de la Roumanie à l'Union européenne, le pays est confronté à une pénurie de main-d'œuvre, 3 millions de Roumains étant partis travailler sur les marchés de l'Ouest. »

Mirel Bran, Le Monde, 14/07/2009.

**1. Présentez le document (nature, source, date, auteur). (1 pt)**

.....

.....

.....

.....

.....

**2. Quel est le continent d'origine de Kasim ? Décrivez l'itinéraire qu'il a emprunté pour venir en Roumanie. (2 pts)**

.....

.....

.....

.....

.....

**NE PAS ECRIRE DANS CETTE PARTIE**

**3. Expliquez les deux principales raisons pour lesquelles il a quitté son pays. (3 pts)**

.....

.....

.....

.....

.....

.....

.....

.....

.....

**4. D'après le texte, citez un autre flux d'immigration en Europe. D'après vos connaissances, citez une autre grande zone d'accueil de migrants à l'échelle mondiale. (2 pts)**

.....

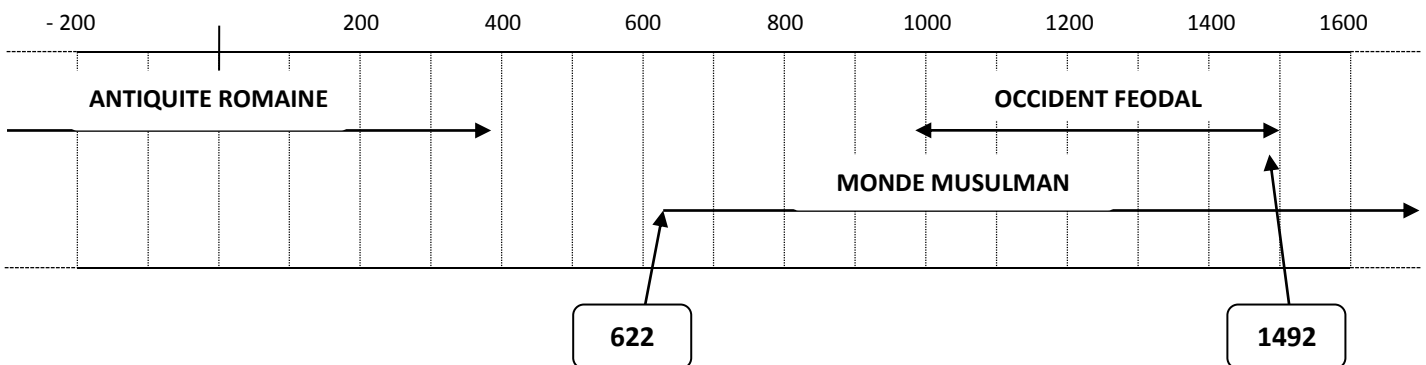
.....

.....

.....

**DEUXIEME PARTIE : HISTOIRE (7,5 POINTS)**

**I. REPERES D'HISTOIRE (2,5 points)**



**1. Sur la frise chronologique, coloriez en rouge les siècles de la paix romaine et coloriez en bleu les siècles correspondant à l'âge des églises gothiques. (1 pt)**

